

## ② 時こくと時間のもともめ方

3年	組	番
名前		

① <sup>つぎ</sup> 次の時こくをもとめましょう。  
(各15点)

① 午前9時40分から30分後の  
 時こく

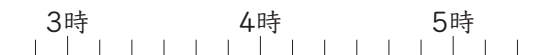



② 午後5時20分より40分前の  
 時こく




③ 午前8時15分より30分前の  
 時こく


② まさきさんは、午後3時40分から  
 午後4時30分まで<sup>あそ</sup>遊んでいました。  
 遊んでいた時間は何分ですか。  
(15点)




③ ゆきさんは、きのう40分、<sup>きょう</sup>今日は  
 1時間30分読書をしました。  
 2日間で読書をした時間は、  
 あわせて何時間何分ですか。  
(20点)






④ りかさんの家での<sup>べんきょう</sup>勉強の時間は  
 40分です。  
 午後3時40分から勉強をはじめると、  
 勉強が<sup>お</sup>終わるのは午後何時何分ですか。  
(20点)



## ② 時こくと時間のもとめ方

3年	組	番
名前		

① 時計を見て、まりこさんが花を植えたお話をつくりましょう。  
 にあてはまる数を書きましょう。



お話

まりこさんは、午後  時  分から、午後  時  分まで

花を植えました。花を植えていた時間は  分です。

②  にあてはまる時間のたんいを書きましょう。

- ① 今日の算数のじゅぎょう時間は45  でした。
- ② きこの夜の<sup>きょう</sup>から今日の朝まで、10  ねました。
- ③ うんどう場のトラックを走ってしゅうするのに、55  かかりました。

「時こくと時間のもとめ方」の<sup>がくしゅう</sup>学習を<sup>かえ</sup>ふり返ってみましょう。

① あなたにあてはまる<sup>きごう</sup>記号を( )に書きましょう。

- ◎ とてもよくできた。
- できた。
- △ あまりできなかった。

- ① <sup>すす</sup>進んで学習できたか。( )
- ② いろいろなやり方でちょうせんできたか。( )
- ③ 考え方のよいところをたくさん見つけられたか。( )

② 学習して思ったことや、さらに学習してみたいことを書きましょう。