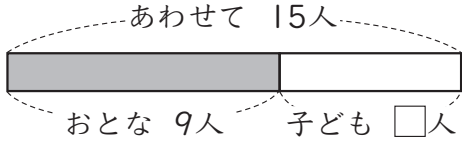


# 15 たし算とひき算

2年	組	番
名前		

1 下の図を見て答えましょう。



① おとなは <sup>なんにん</sup> 何人 いますか。

〈10点〉

 人

② おとなと子どもをあわせると、何人ですか。

〈10点〉

 人

③ 子どもは何人 いますか。

〈式20点, 答え10点〉

しき

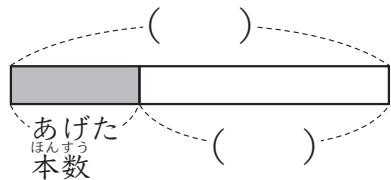
答え  人

2 つぎの もんだいを 読んで 答えましょう。

えんぴつが 何本か あります。  
8本 あげたので、のこりが  
15本に なりました。  
えんぴつは、はじめに 何本  
ありましたか。

① 上の もんだいを、図に  
あらわします。( )に  
あてはまる ことばを、

から えらんで、<sup>き</sup> 記ごうで  
答えましょう。 〈各10点〉



- ㊦ もらった 本数
- ㊧ のこりの 本数
- ㊨ はじめの 本数

② えんぴつは、はじめに 何本  
ありましたか。 〈式20点, 答え10点〉

しき

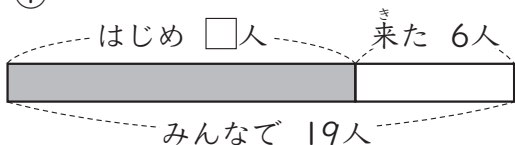
答え  本

# 15 たし算とひき算

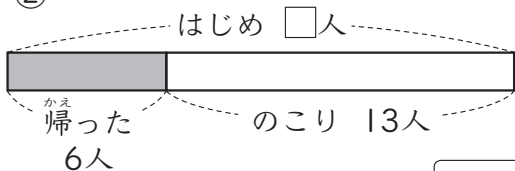
2年	組	番
名前		

1 つぎの ①, ②, ③の 図に 合う もんだいを, 右の  から えらんで, 記号で 答えましょう。

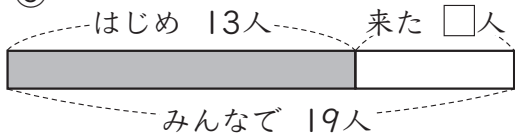
①




②




③




ア 校でいて 子どもが 13人 あそんでいます。そこへ 何人か 来たので, みんなで 19人になりました。

子どもは 何人 来ましたか。

イ 校でいて 子どもが 何人か あそんでいます。そこへ 6人 来たので, みんなで 19人になりました。

子どもは, はじめに 何人 いましたか。

ウ 校でいて 子どもが 何人か あそんでいます。6人 帰りました。まだ 13人 のこっています。

子どもは, はじめに 何人 いましたか。



「たし算とひき算」の 学しゅうを ふりかえりましょう。

1 あてはまる ものに ○を つけましょう。

①すすんで 学しゅうできましたか。

②さいごまで しっかりと 学しゅうできましたか。

2 学しゅうして 思った ことや もっと 学しゅうしたい ことを 書きましょう。