

17

# たしざんとひきざん


1ねん くみ ばん

なまえ

① ともさんは、まえから  
6ばんめに のって います。  
ともさんの うしろに 5にん  
のって います。

みんなで なんにん のって  
いますか。

<式15・答10点>



しき

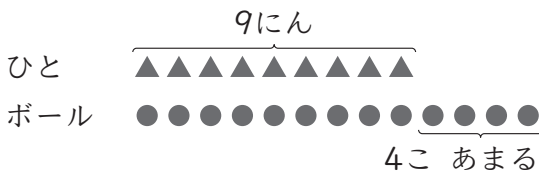
こたえ

にん

② 9にんが 1こずつ ボールを  
つかうと、ボールは 4こ  
あまります。

ボールは、ぜんぶで なんこ  
ありますか。

<式15・答10点>



しき

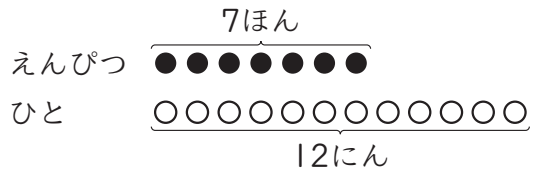
こたえ

こ

③ えんぴつが 7ほん あります。  
ひとりに 1ぽんずつ、12にんに  
くばろうと して います。

えんぴつが もらえない ひとは  
なんにんですか。

<式15・答10点>



しき

こたえ

にん

④ すずめが 11わ います。  
はとは、すずめより 3わ  
すくないそうです。

はとは、なんわ いますか。

<式15・答10点>




しき

こたえ

わ

**17 たしざんと ひきざん**

1ねん くみ ばん  
なまえ



14にんの こどもが きしゃを まって います。ひろしさんは、  
まえから 6ばんめに います。みのるさんは、ひろしさんの うしろの  
ひとから かぞえて 5ばんめに います。  
きしゃが 3にん のせて きました。あいている せきは 7つです。

この おはなしから、3つの もんだいをつくりました。それぞれの  
もんだいと こたえを もとめる しきを、せんで むすびましょう。

- ㊶ きしゃには ぜんぶで なんにん のれますか。 • 6 + 5
- ㊷ みのもるさんは まえから なんばんめに いますか。 • 14 - 6
- ㊸ ひろしさんの うしろには なんにん いますか。 • 14 - 7
- ㊹ ひろしさんの うしろには なんにん いますか。 • 3 + 7

「たしざんと ひきざん」の がくしゅうを ふりかえりましょう。

- 1** あてはまる ものに ○を つけましょう。
- ①すすんで がくしゅうできましたか。
- ②さいごまで しっかりと がくしゅうできましたか。

- 2** がくしゅうして おもった ことや もっと がくしゅうしたい ことを かきましょう。
-