

230

## 3 0 や 1 のわり算

1

はこ  
箱に入っているクッキーを、

4人で同じ数ずつ分けます。

1人分は何こになりますか。

## (1) 8こ入っているとき



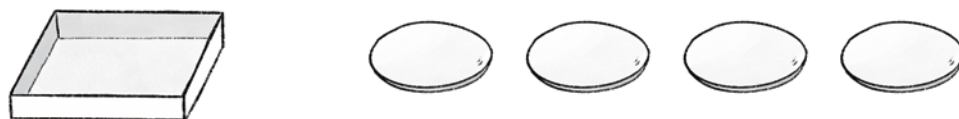
$$\square \div 4 = \square$$

## (2) 4こ入っているとき



$$\square \div 4 = \square$$

## (3) 入っていないとき



みさき

どんな<sup>しき</sup>式になるかな。

## 3 0 や 1 のわり算

1

はこ  
箱に入っているクッキーを、

4人で同じ数ずつ分けます。


1人分は何こになりますか。

## (1) 8こ入っているとき



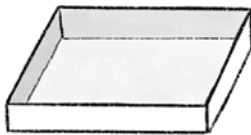
$$\square \div 4 = \square$$

## (2) 4こ入っているとき



$$\square \div 4 = \square$$

## (3) 入っていないとき



みさき

どんな<sup>しき</sup>式になるかな。