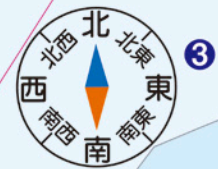






A4判 地図



関東地方2(一般図)

1:620,000 (62万分の1) 正角円錐図法
10 0 10 20km

- 関東地方で注目したい記号
- きゅうり ほうれん草 だいこん などの野菜記号
 - そのほかの地図記号 p.4
 - 1部の資料 p.89~93
 - 2部の資料 p.135~136



1 千葉県で生産量が全国1位の農産物を3つあげてみよう。

2 関東地方の他の都県でも生産量が全国1位の農産物があるか、調べてみよう。

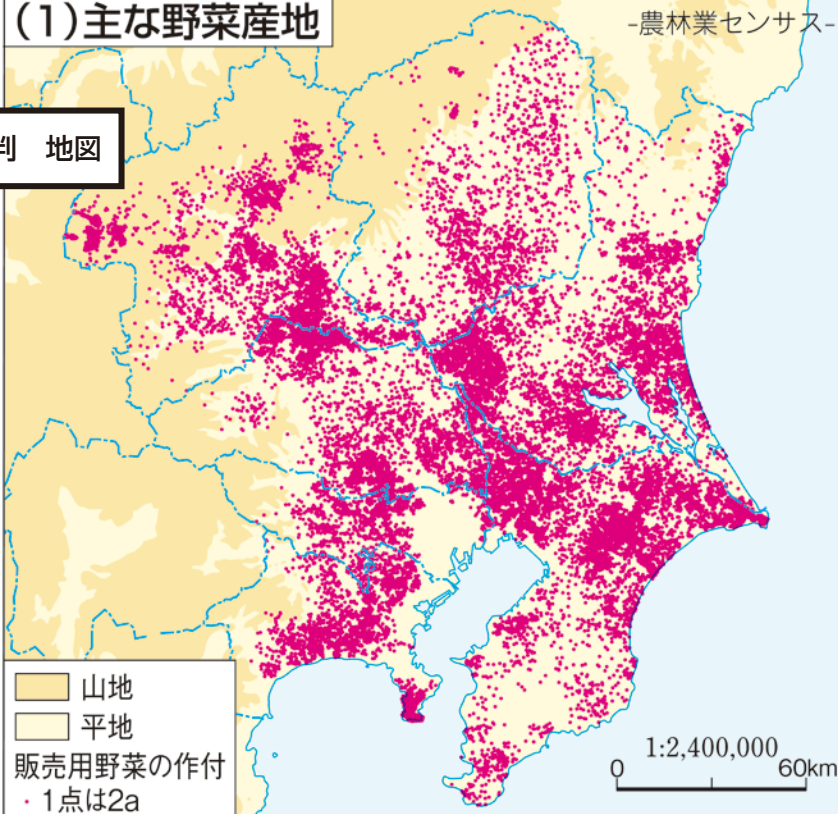
3 全国的に見て関東地方で野菜の生産がさかんな理由を考えてみよう。

4 他地方の野菜の生産順位と比較してみよう。

①消費地に近い千葉県、茨城県の野菜の生産

読図の一步 関東地方の主な野菜産地を確かめよう。茨城県や千葉県で野菜の生産が多い地域はどこだろう。


(1)主な野菜産地



A4判 地図

(3)茨城県,千葉県から京浜*への農産物の出荷

-青果物産地別卸売統計-
2007年



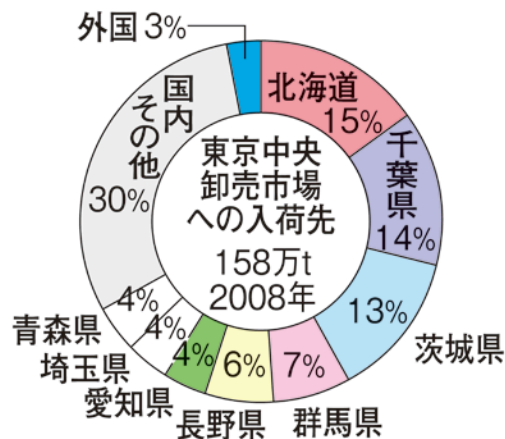
*京浜は東京都と横浜市、川崎市の合計

(2)都道府県別の生産量が全国1位の農畜産物

2005年
-農林水産省資料-



(4)東京中央卸売市場での野菜の入荷先



-東京都資料-

(5)市町村第1位の生産物

福島県

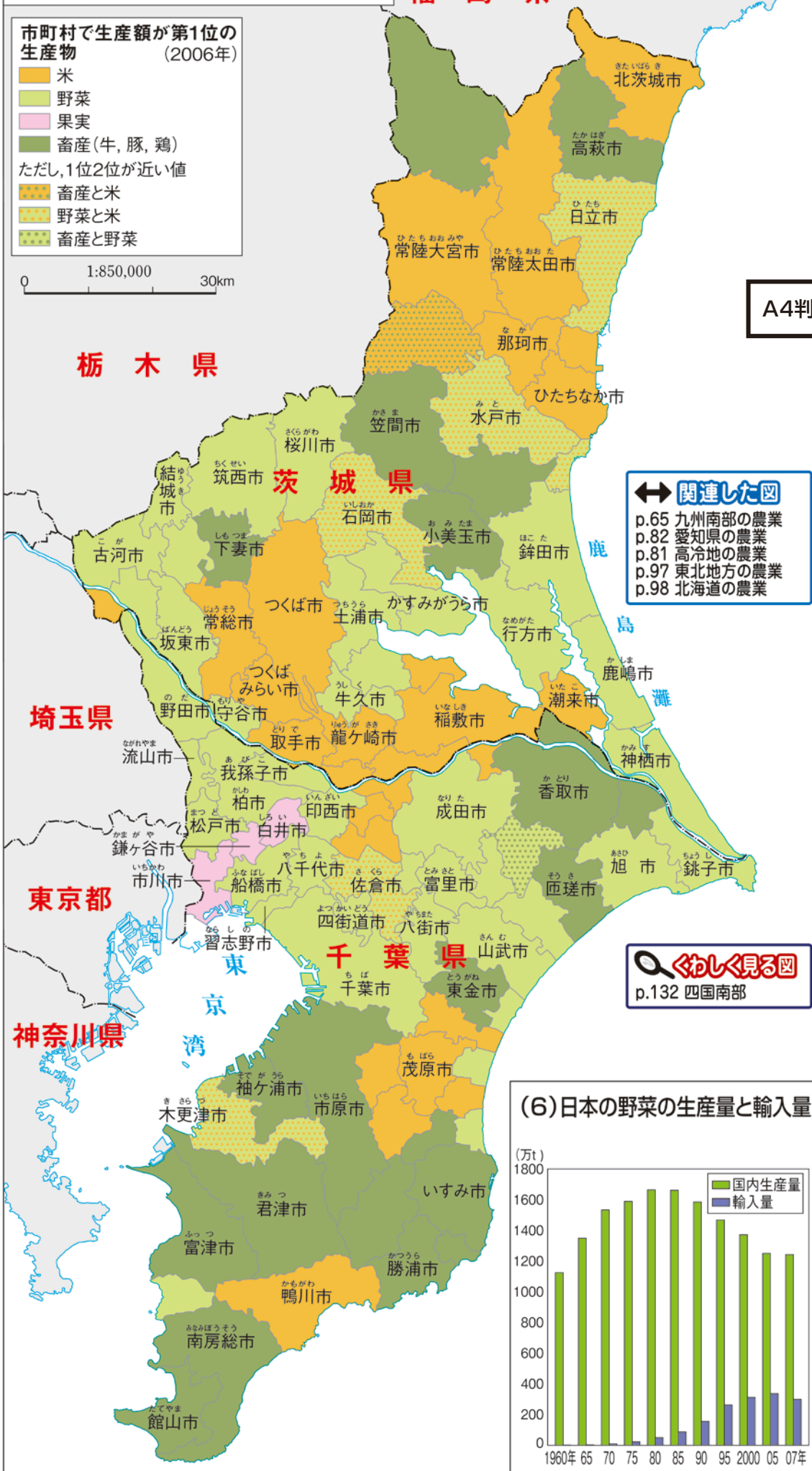
市町村で生産額が第1位の生産物 (2006年)

- 米
- 野菜
- 果実
- 畜産(牛, 豚, 鶏)

ただし, 1位2位が近い値

- 畜産と米
- 野菜と米
- 畜産と野菜

1:850,000 30km



A4判 地図

関連した図

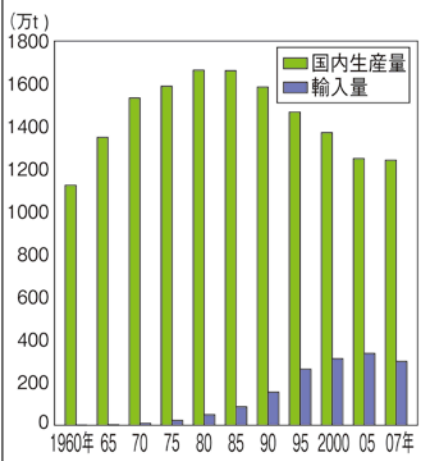
- p.65 九州南部の農業
- p.82 愛知県の農業
- p.81 高冷地の農業
- p.97 東北地方の農業
- p.98 北海道の農業

くわしく見る図

p.132 四国南部

1部 関東地方

(6)日本の野菜の生産量と輸入量



-平成18年生産農業所得統計-

-平成18年生産農業所得統計-